

2023年度

パターンメイキング技術検定

2級 [製図試験問題・解答]

実施日	2023年7月1日(土)
製図試験説明	10:40~10:50
製図試験時間	10:50~12:50

ご注意事項

模範解答となります。

必ずしも同じ方法でなければならない訳ではありません。

印刷により誤差は生じますので、全く同じ物ではございません。

ご了承ください。

協会の許可なく転載、転用、複製、複写、編集、改変、販売、
公衆送信などの二次利用することを固く禁じます。

問1

ストレートジャケットのパターンを展開し、デザインジャケットの前身頃・前脇身頃・後ろ身頃・後ろ脇身頃・フラップポケット・衿のファーストパターンを作成しなさい。(1/2縮図)

- ・各パーツの外周線・B.L・W.Lを実線で記入。
- ・見返し線・ボタン・ボタンホール・地の目線・合い印・パターン名称、その他必要と思われる記号をすべて記入。

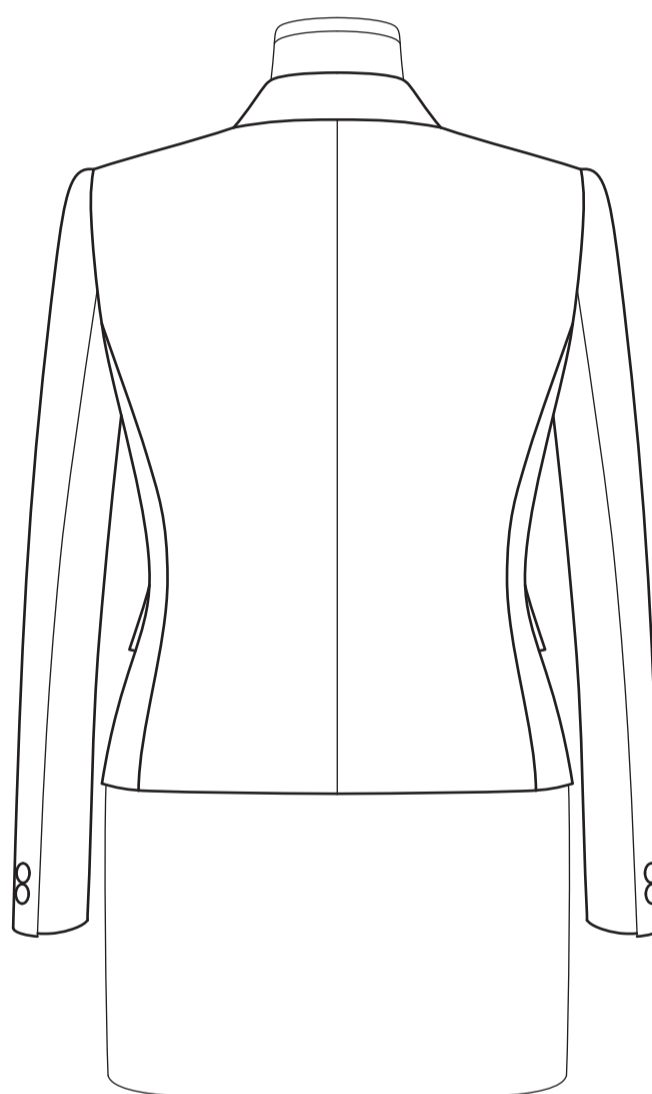

- (注) 1. デザインジャケットの着丈はストレートジャケットと同寸。
2. B寸法94.5cm・W寸法78cm・裾回り寸法100cm・衿幅(後中心)6cmを参考寸法として作成すること。
3. 後衿ぐり・袖ぐりはストレートジャケットの形状をそのまま使用。
4. W.Lはデザインに応じて各自で作成する。
5. 縫い代を付ける必要はない。
6. トレーシングペーパーなどの別紙を貼り付けての解答は不可。

問2

ストレートジャケットのパターンを展開し、デザインジャケットの2枚袖のファーストパターンを作成しなさい。(1/2縮図)

- ・袖の各パーツの外周線・袖わたり線・肘線を実線で記入。
- ・ボタン・地の目線・合い印・パターン名称、その他必要と思われる記号をすべて記入。

- (注) 1. 袖丈58cm
2. 縫い代を付ける必要はない。
3. トレーシングペーパーなどの別紙を貼り付けての解答は不可。



問1

ストレートジャケットのパターンを展開し、デザインジャケットの前身頃・前脇身頃・後ろ身頃・後ろ脇身頃・フラップポケット・衿のファーストパターンを作成しなさい。(1/2縮図)

・各パーツの外周線・B.L・W.Lを実線で記入。

・見返し線・ボタン・ボタンホール・地の目線・合い印・パターン名称、その他必要と思われる記号をすべて記入。

(注) 1. デザインジャケットの着丈はストレートジャケットと同寸。

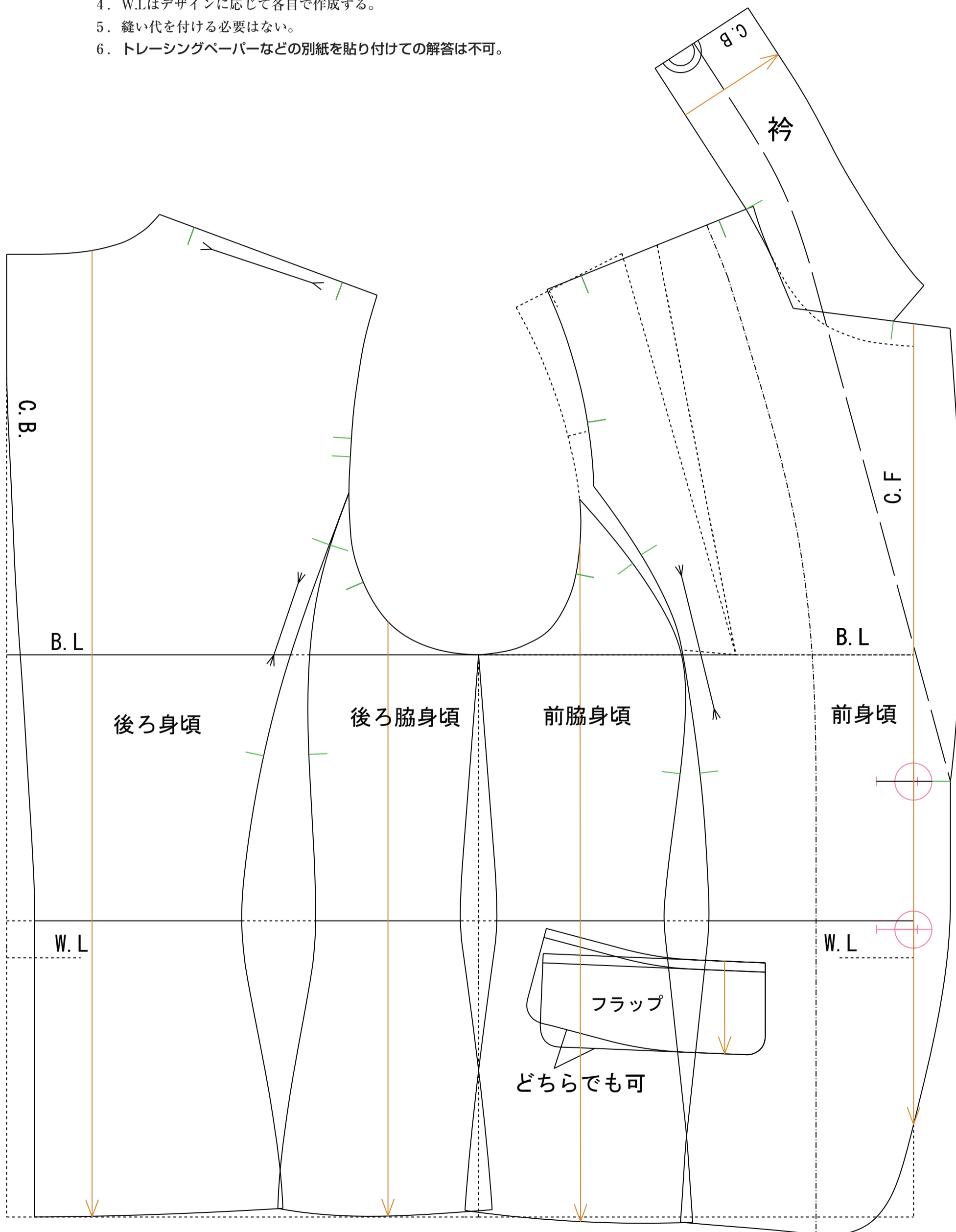

2. B寸法94.5cm・W寸法78cm・裾回り寸法100cm・衿幅(後中心)6cmを参考寸法として作成すること。

3. 後衿ぐり・袖ぐりはストレートジャケットの形状をそのまま使用。

4. W.Lはデザインに応じて各自で作成する。

5. 縫い代を付ける必要はない。

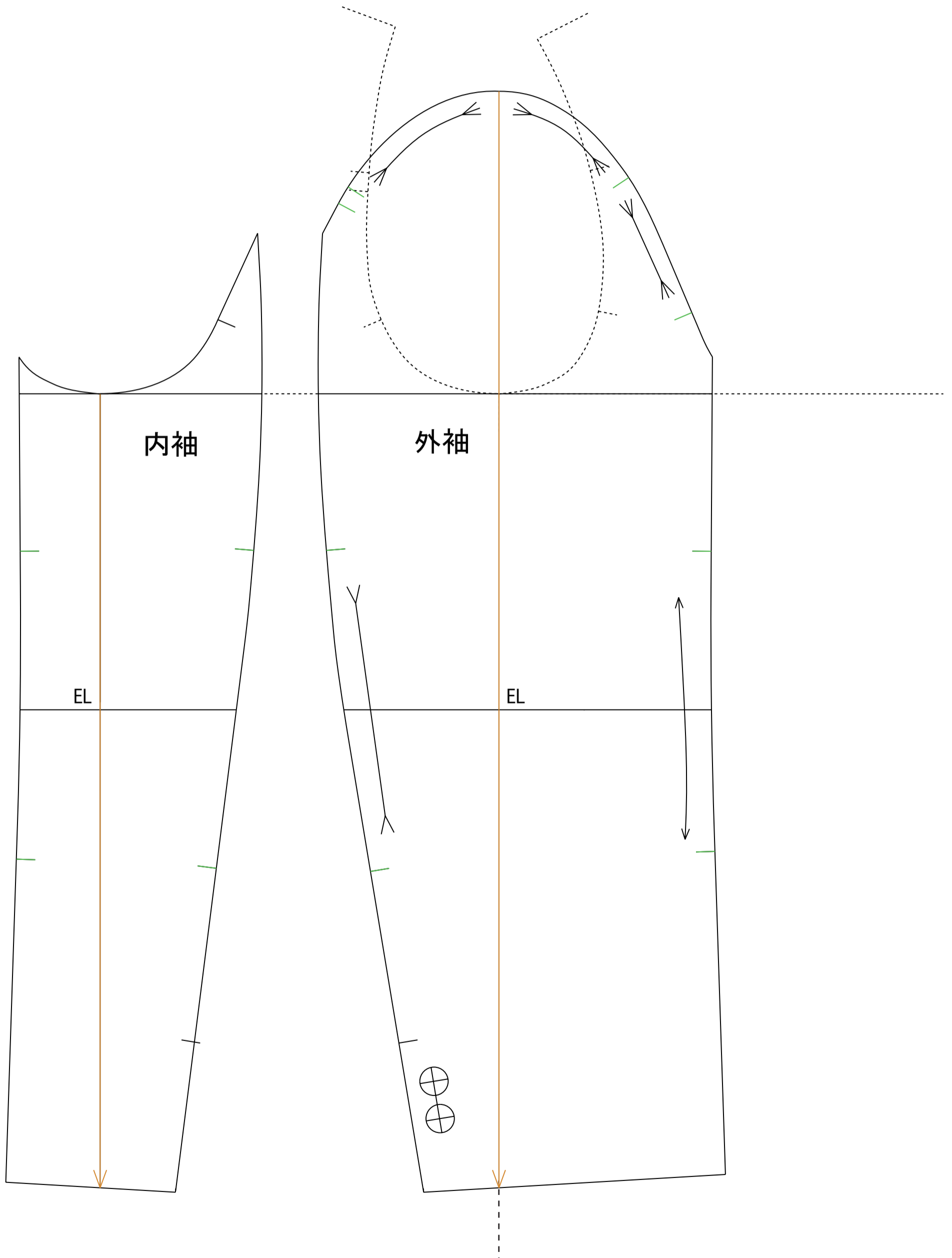

6. トレーシングペーパーなどの別紙を貼り付けての解答は不可。



問2 ストレートジャケットのパターンを展開し、デザインジャケットの2枚袖のファーストパターンを作成しなさい。(1/2縮図)

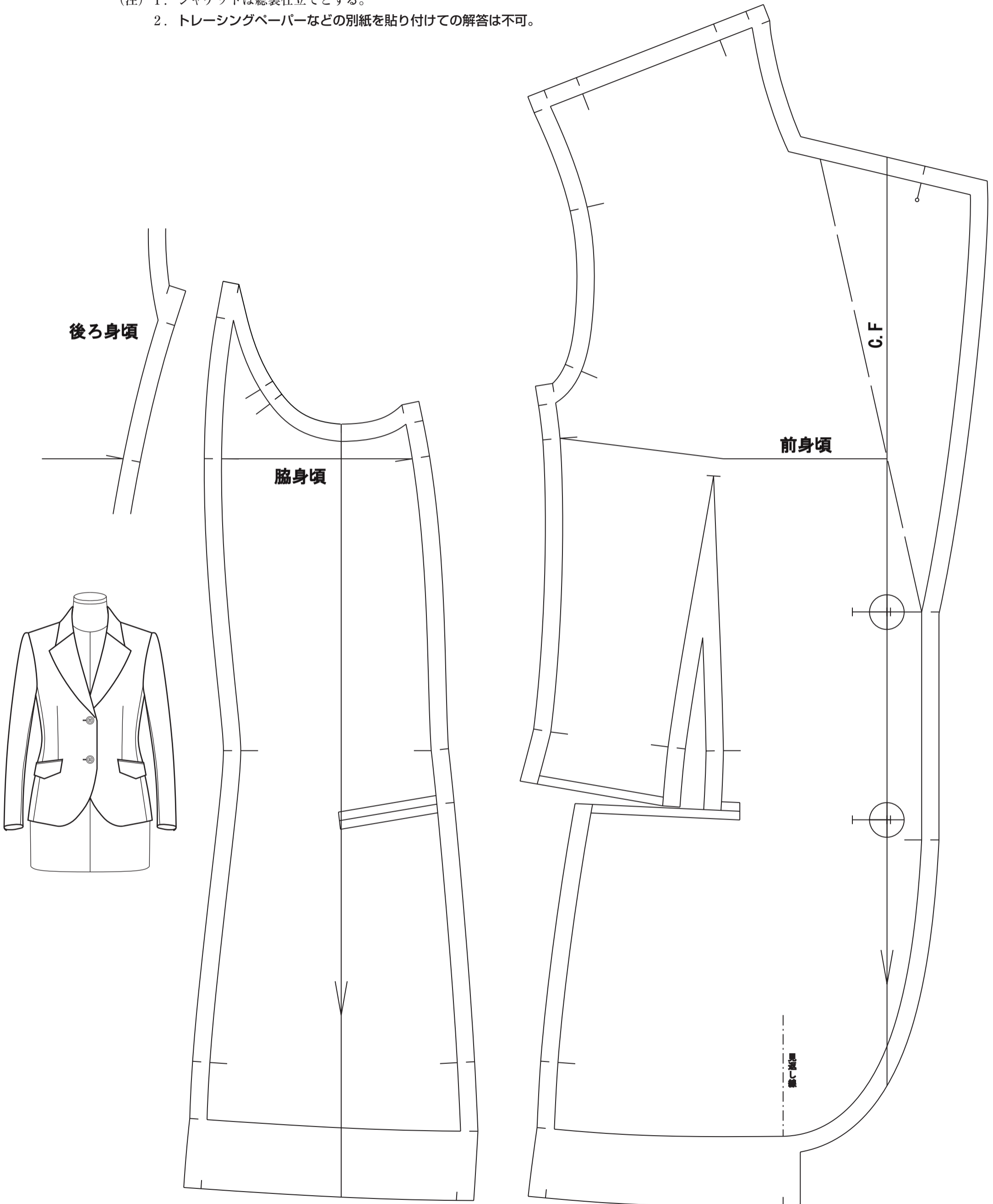
- ・袖の各パーツの外周線・袖わたり線・肘線を実線で記入。
- ・ボタン・地の目線・合い印・パターン名称、その他必要と思われる記号をすべて記入。

- (注) 1. 袖丈58cm
2. 縫い代を付ける必要はない。
3. トレーシングペーパーなどの別紙を貼り付けての解答は不可。



問3 下記デザインジャケットのファーストパターン（前身頃、脇身頃）に縫い代を付け、合い印を記入しなさい。
縫い代幅は、裾4cm、その他1cmとする。（1/2縮図）

- (注) 1. ジャケットは総裏仕立てとする。
2. トレーシングペーパーなどの別紙を貼り付けての解答は不可。



問4

下図は9ARサイズの前身頃のパターンです。各ポイントでのグレード量を記入し、11ARサイズのグレーディングパターンを重ね書きしなさい。(実寸パターン)

グレーディングピッチは右図ピッチ表を参照し、図中に指示した●位置を重ね書きの原点とする。

※ダーツの分量一定、脇線平行処理。

(注) トレーシングペーパーなどの別紙を貼り付けての解答は不可。

〈グレーディングピッチ表〉

バスト一周	3.0cm
F.N.P~B.L	0.3cm
天巾(左右)	0.2cm
衿ぐり深さ	0.1cm
肩幅(左右)	0.8cm
C.F~B.P	0.25cm
着丈	0.5cm

